

**Проверочная работа
по ГЕОГРАФИИ**

8 класс (по программе 7 класса)

Вариант 1

Инструкция по выполнению работы


На выполнение работы по географии даётся 90 минут. Работа включает в себя 8 заданий.

Ответы на задания запишите в поля ответов в тексте работы. В случае записи неверного ответа зачеркните его и запишите рядом новый.


При выполнении работы не разрешается пользоваться учебником, рабочими тетрадями, атласом и другим справочным материалом. Для выполнения задания 2 Вам потребуются калькулятор и карандаш.

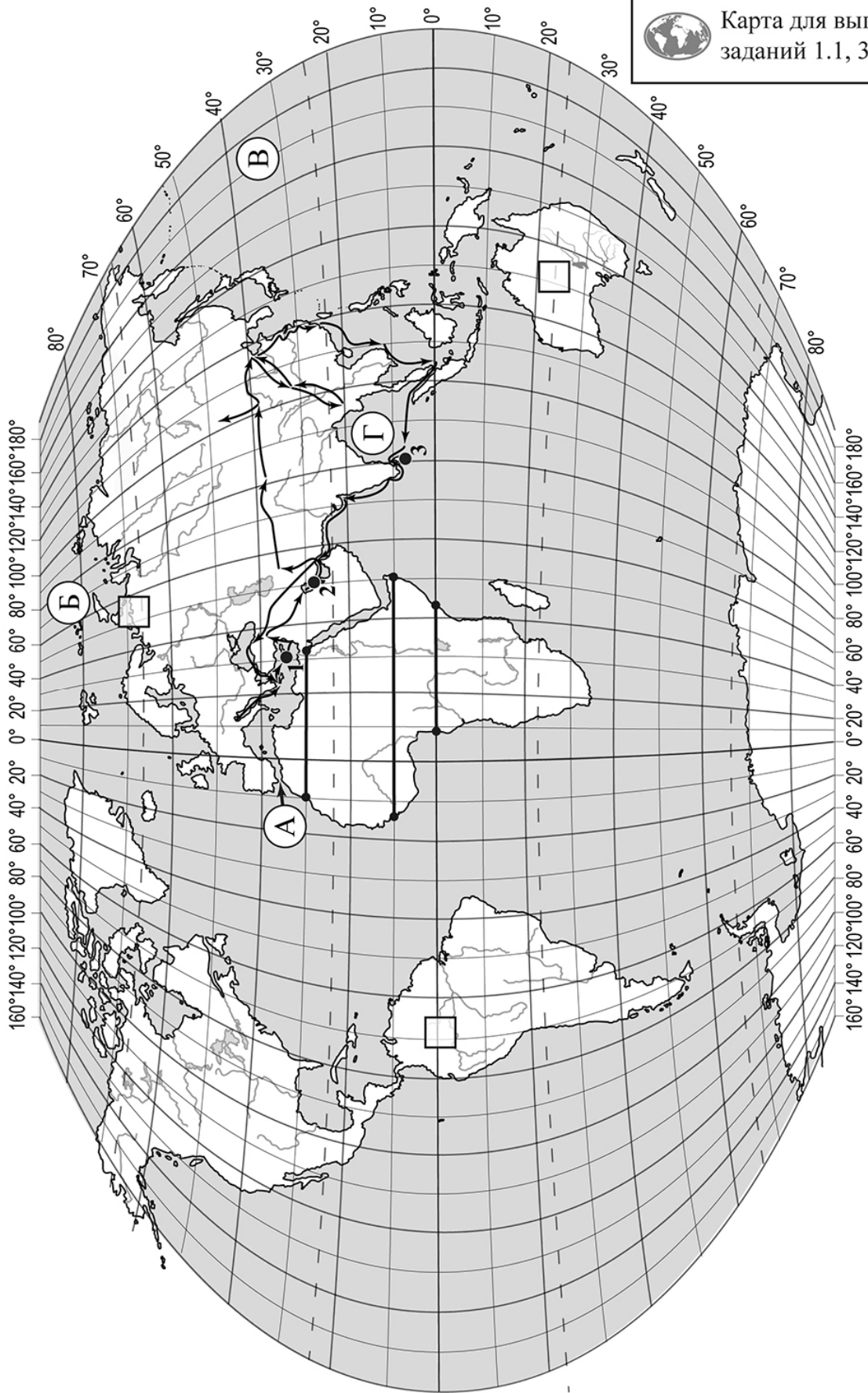
При необходимости можно пользоваться черновиком. Записи в черновике проверяться и оцениваться не будут.

Советуем выполнять задания в том порядке, в котором они даны. В целях экономии времени пропускайте задание, которое не удаётся выполнить сразу, и переходите к следующему. Если после выполнения всей работы у Вас останется время, то Вы сможете вернуться к пропущенным заданиям.

Значком  отмечены задания, ответы на которые записываются на картах, приведённых на страницах 2, 11.

Желаем успеха!

 Карта для выполнения заданий 1.1, 3.2



Задания 1–3 выполняются с использованием карты мира, приведённой на странице 2.


1

На карте мира, приведённой на странице 2, изображён маршрут экспедиции одного из путешественников, портреты которых представлены ниже. Рассмотрите карту и портреты путешественников и выполните задания.

1.1. Маршрут экспедиции кого из путешественников изображён на карте?



В.В. Юнкер



Марко Поло



Александр Маккензи


Ответ. _____



Подпишите на карте название материка, по которому проходил маршрут экспедиции.



1.2. На карте буквами обозначены объекты, определяющие географическое положение указанного Вами материка. Запишите в таблицу названия этих объектов.

А	Б	В	Г
			

1.3. По линии маршрута экспедиции отмечены точки, расположенные на территории крупных географических объектов. Определите и запишите в ответе географические координаты **точки 3**.

Ответ. _____

1.4. Прочитайте текст, составленный по запискам путешественников, исследователей и туристов, посещавших объект, на территории которого расположена **точка З**.

Путешественники всегда восхищались природой острова, бóльшую часть территории которого занимают прибрежные низменности с разнообразным животным и растительным миром. На нём обитает 86 видов животных, среди которых шакалы, дикие буйволы, несколько видов оленей, медведи, дикобразы, обезьяны, слоны. Остров изобилует рептилиями. По данным учёных, здесь насчитывается около 3000 видов растений, самые фантастические, конечно, папоротники, пальмы и лианы. Именно они создают полное ощущение затерянного мира. Остров славится чайными плантациями, которые располагаются в возвышенной центральной части острова. Здесь производится 1/10 чая в мире.

Запишите в ответе название этого географического объекта.



Ответ. _____

2

На уроке географии Лена построила профиль рельефа Африки, представленный на рисунке 1. Используя рисунок 1 и карту мира, приведённую на странице 2, выполните задания.

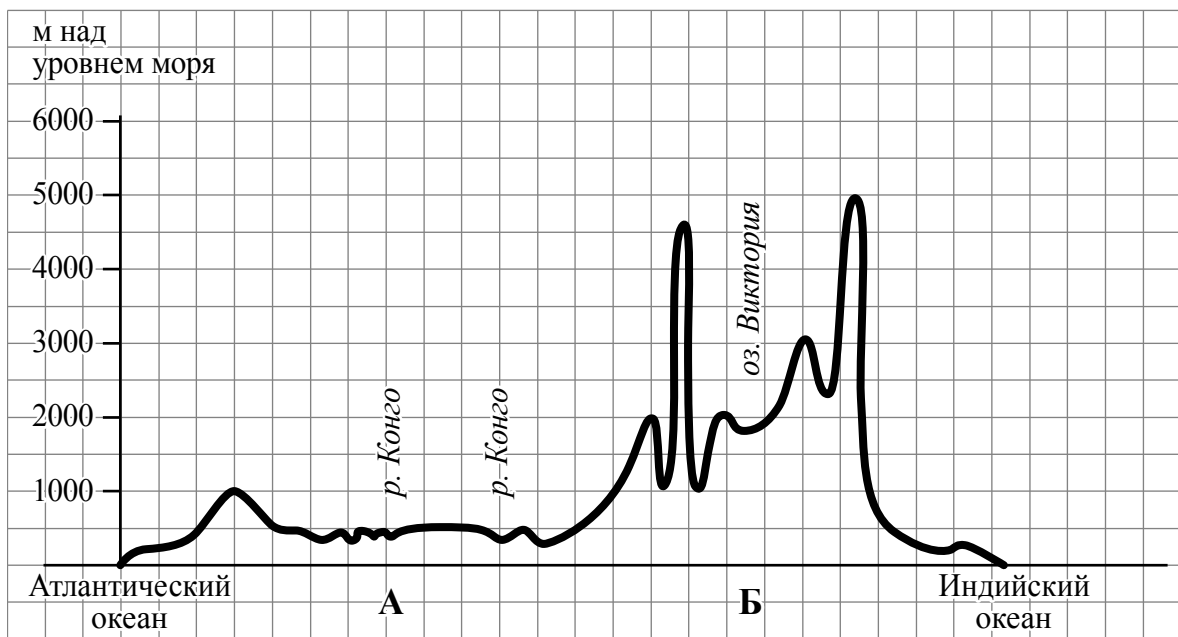


Рисунок 1

2.1. По какому из отрезков, проведённых на карте вдоль трёх параллелей, пересекающих материк Африка, построен профиль рельефа, представленный на рисунке 1? Укажите в ответе значение параллели.

Ответ. _____

Определите по карте протяжённость материка Африка **в градусах** по указанной Вами параллели.

Ответ. _____

Рассчитайте протяжённость материка Африка по указанной Вами параллели **в километрах** с помощью приведённой ниже таблицы. (Для расчёта воспользуйтесь калькулятором.)

Широта	0°	10°	20°	30°	40°	50°	60°	70°	80°	90°
Длина дуги параллели в 1°, км	111,3	109,6	104,6	96,5	85,4	71,7	55,8	38,2	19,4	0

Ответ. _____

2.2. Укажите географическое название крупной формы рельефа, которой соответствует участок профиля, обозначенный на рисунке 1 буквой А.

Ответ. _____

Определите наибольшую абсолютную высоту территории, через которую проходит профиль на этом участке.

Ответ. _____

2.3. На рисунке 2 представлены значки, которыми обозначаются месторождения полезных ископаемых на географических картах.




Рисунок 2

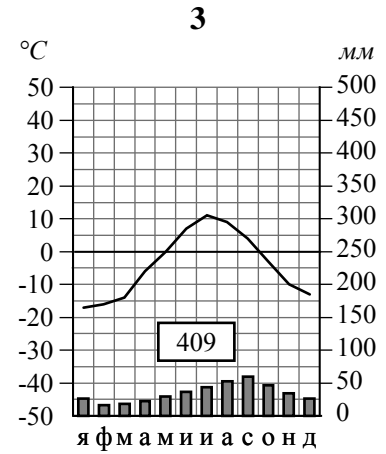
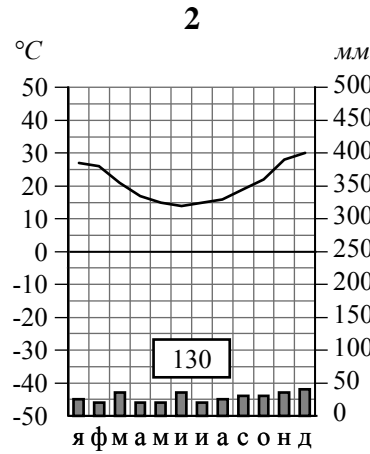
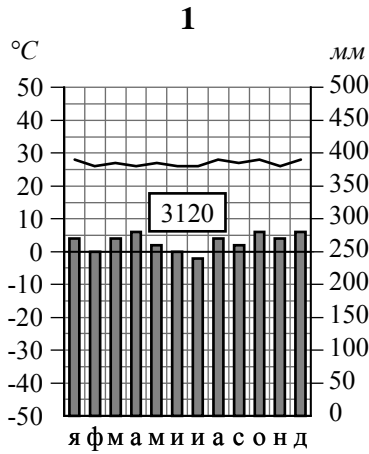
Внесите в таблицу значки, обозначающие месторождения полезных ископаемых, которые добывают на территории, обозначенной на профиле буквой А.

Алмазы	Железные руды	Урановые руды	Марганцевые руды

3

Рассмотрите рисунки с изображением климатограмм, построенных по данным метеонаблюдений в разных частях Земли, и выполните задания.

3.1. Определите, какому климатическому поясу соответствует каждая климатограмма. Подпишите название климатического пояса под соответствующей климатограммой.





3.2. На карте мира, приведённой на странице 2, территории, для которых построены изображённые на рисунках климатограммы, обозначены пустыми квадратами. Впишите в каждый квадрат на карте номер соответствующей климатограммы.

3.3. Какой природной зоне мира соответствуют приведённые ниже характеристики? Укажите в ответе название этой природной зоны.

- 1) Почвы малопродуктивны и сильно заболочены.
- 2) Короткое лето с продолжительным полярным днём, длинная и очень суровая зима, сопровождающаяся сильными ветрами и метелями.
- 3) Осадков выпадает очень мало.
- 4) Распространена многолетняя мерзлота.
- 5) Растут в основном карликовые растения, мхи и кустарники.

Ответ. _____

Выберите климатограмму, соответствующую климатическим особенностям указанной Вами природной зоны. Укажите в ответе её номер.

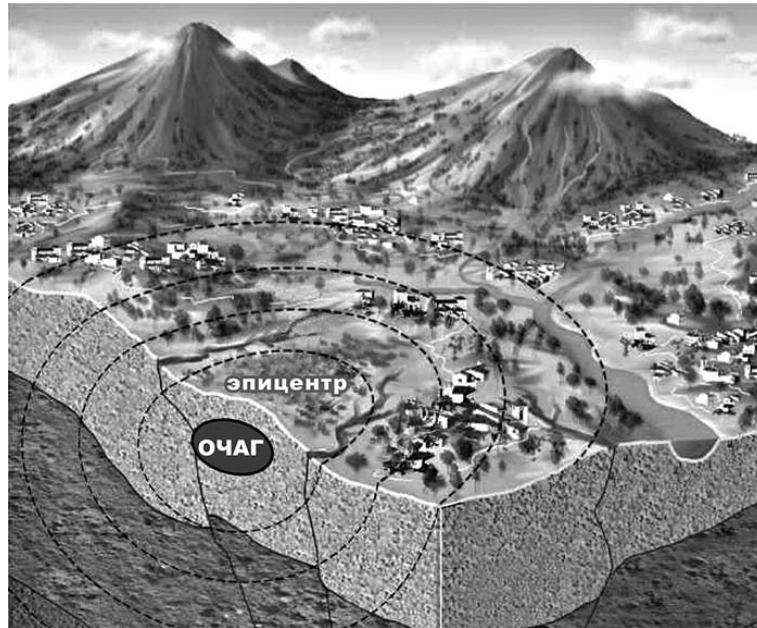
Ответ.

3.4. По выбранной Вами в задании 3.3 климатограмме определите климатические показатели для указанной природной зоны и заполните таблицу.

Средняя температура воздуха, °C		Годовая амплитуда температур, °C	Годовое количество осадков, мм	Месяц, на который приходится наибольшее количество осадков
в январе	в июле			

4

Рассмотрите схему природного процесса и выполните задания.



4.1. Какой природный процесс отображён на схеме?

Ответ. _____

4.2. Установите последовательность этапов отображённого на схеме процесса. Запишите в ответе **порядковые номера** этапов.

ЭТАПЫ:

- 1) Колебания распространяются в виде сейсмических волн.
- 2) Толчки распространяются из глубины земной коры от места разрыва в направлении к земной поверхности.
- 3) В земной коре накапливается внутренняя энергия.
- 4) Возникают колебания земной поверхности, сопровождающиеся подземным гулом.
- 5) Под действием внутренней энергии в земной коре происходят разрывы и смещение горных пород, сопровождающиеся мощными толчками.

Ответ.

--	--	--	--	--	--

4.3. В каких регионах мира наиболее часты проявления отображённого на схеме процесса? Приведите один пример.

Ответ. _____

5

5.1. Установите соответствие между географическими особенностями и материками, для которых они характерны: для этого к каждой позиции первого столбца подберите соответствующую позицию из второго столбца.

ГЕОГРАФИЧЕСКИЕ ОСОБЕННОСТИ

- А) Большую часть территории материка занимают тропические пустыни.
- Б) Берега материка омываются водами южных частей трёх океанов Земли.
- В) С декабря по февраль солнце не опускается за линию горизонта круглые сутки.
- Г) К северо-западу от материка расположен один из крупнейших архипелагов Земли.
- Д) Горы протягиваются узкой цепью вдоль всего восточного побережья материка.
- Е) Жизнь всех обитающих на материке животных связана с океаном.

МАТЕРИКИ

- 1) Антарктида
- 2) Австралия

Запишите в таблицу выбранные цифры под соответствующими буквами.

□

Ответ.

А	Б	В	Г	Д	Е

5.2. В приведённом ниже списке перечислены крупные географические объекты. Выберите из представленного ниже списка названия географических объектов, расположенных на территории одного из этих материков, и заполните схему. Впишите в схему название материка, типы и названия выбранных Вами географических объектов.

Кордильеры, Амундсена, Охотское, Тасманово, Вернадского, Красное, Восточная, Аппалачи, Карпентария, Шмидта, Атлас, Гималаи.

□



Задания 6 и 7 выполняются с использованием политической карты мира, приведённой на странице 11.

6


Александр и Азамат познакомились на чемпионате Мира по хоккею в Словакии. Александр живёт в столице Белоруссии, а Азамат – в столице Казахстана. Подростки общаются через Интернет, и при общении им приходится учитывать разницу во времени между их городами.




6.1. На политической карте мира, приведённой на странице 11, выделите штриховкой страны, в которых живут подростки.




6.2. Часы на рисунках отображают время в городах, где живут подростки. Подпишите названия городов под соответствующими часами.



Время по Гринвичу
12:00 (полдень)



20 февраля
15:00



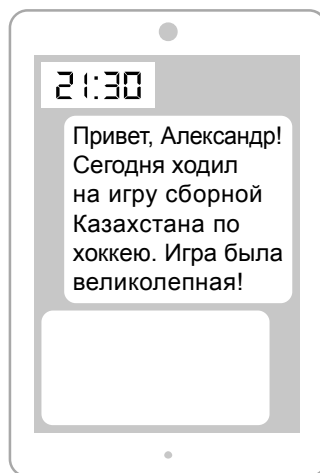
20 февраля
18:00



6.3. Азамат отправил Александру электронное сообщение в 21:30 по местному времени.

Азамат

Александр



Какое время будет отображаться в соответствующем окне на экране смартфона Александра, когда он получит сообщение от Азамата?



Ответ. _____

7

Используя представленную ниже таблицу и политическую карту мира, приведённую на странице 11, выполните задания.

Рост численности населения в странах мира, 2000-2015 гг.

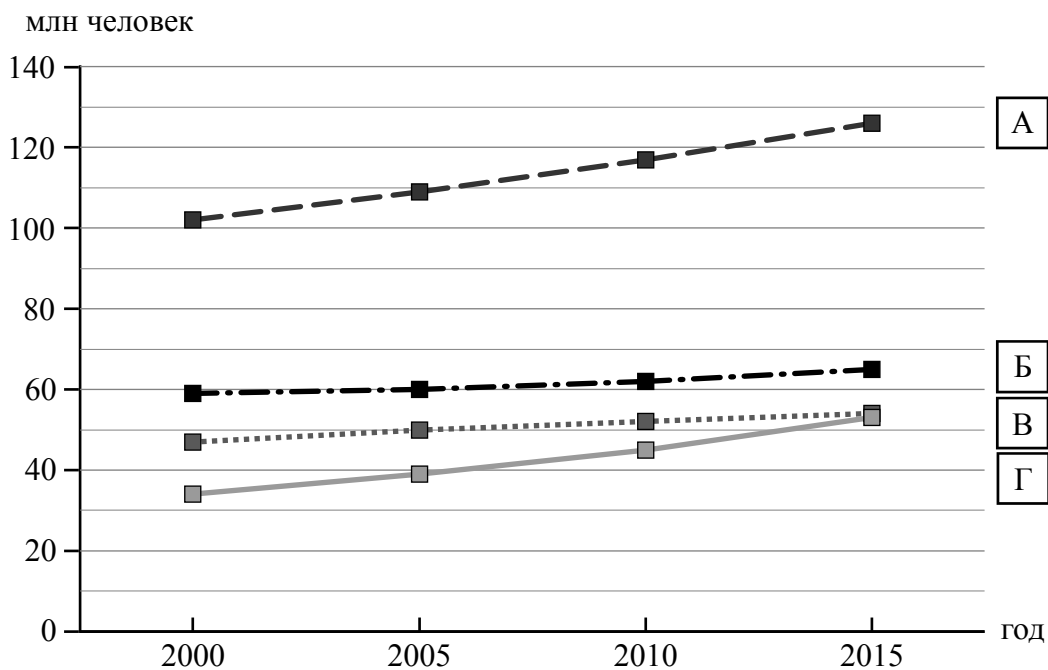
№	Страна	Численность населения в 2018 году, млн человек	Годы			
			2000	2005	2010	2015
1	Великобритания	66	59	60	62	65
2	Танзания	61	34	39	45	53
3	Мьянма	56	47	50	52	54
4	Мексика	131	102	109	117	126



7.1. Подпишите на политической карте мира название страны с самой большой численностью населения в 2018 году.



7.2. Определите, рост численности населения какой страны отражает каждый график. Запишите в ответе порядковые номера стран под соответствующими буквами.

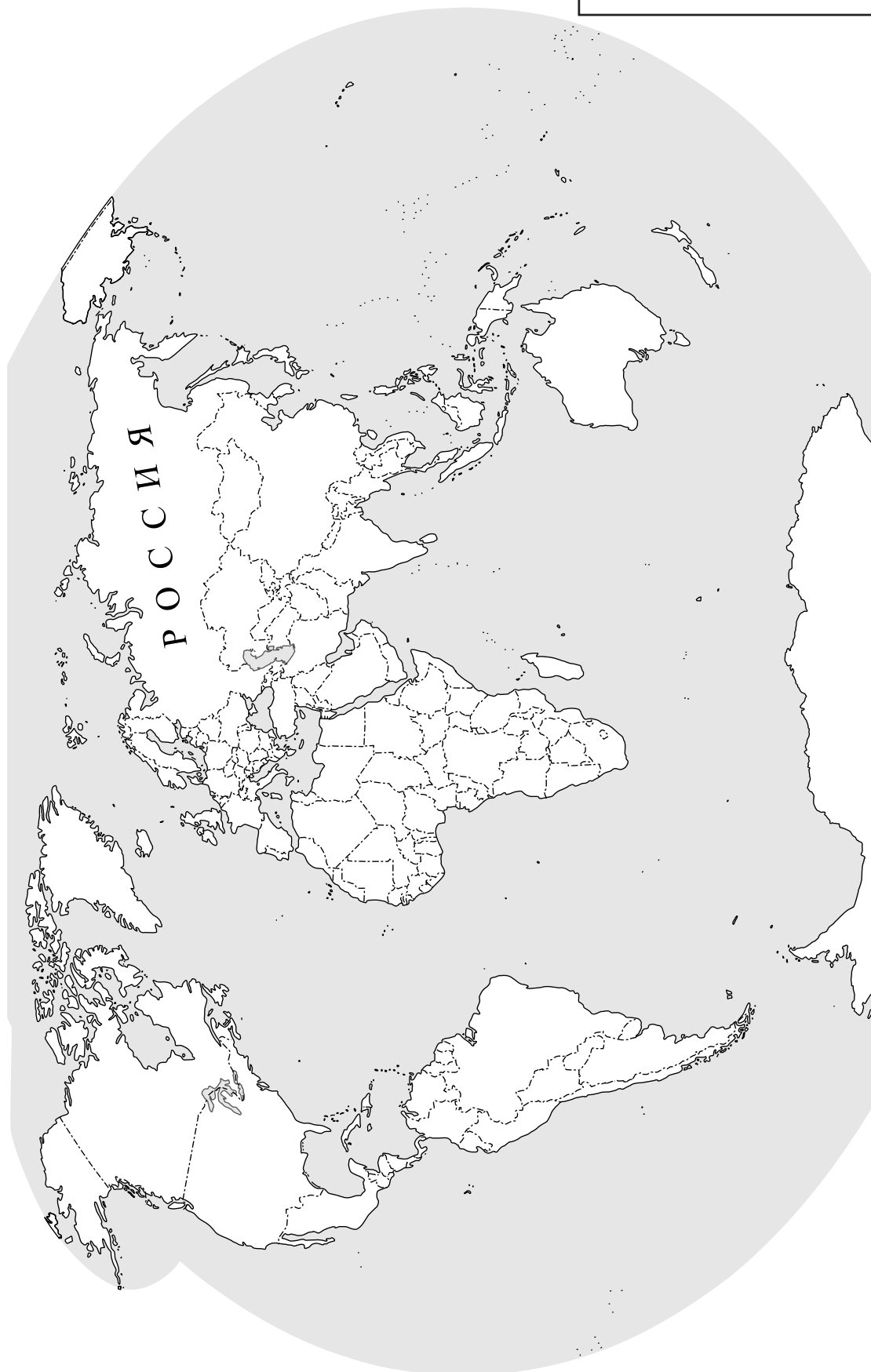


Ответ.

А	Б	В	Г



Карта для выполнения заданий 6.1, 7.1



8

Представьте, что Вам было поручено взять интервью у зарубежного сверстника, чтобы он познакомил Вас со своей страной. Для иллюстрации этого интервью Вы попросили его прислать несколько фотографий, сделанных в стране, в которой он живёт.

8.1. Рассмотрите фотографии и ответьте на вопросы.



В какой стране живёт Ваш сверстник?

Ответ. _____

8.2. Рассмотрите представленные ниже рисунки. Выберите рисунок с контуром страны, в которой живёт Ваш сверстник. Запишите в ответе букву, которой обозначен этот рисунок.

<p style="text-align: center;">А</p>	<p style="text-align: center;">Б</p>	<p style="text-align: center;">В</p>

Ответ.

8.3. Предположите, какие ответы на вопросы о своей стране даст Ваш сверстник в ходе интервью. Запишите их в таблицу.

Вопрос	Ответ
1. В какой части света находится твоя страна?	
2. Какой океан омывает берега твоей страны?	
3. Какие горы есть в твоей стране?	
4. Какие крупные города, кроме столицы, есть в твоей стране?	
5. В какой сфере хозяйства занято большинство жителей твоей страны?	
6. Какие сельскохозяйственные культуры выращивают в твоей стране?	
7. Какие достопримечательности можно посмотреть в твоей стране?	

