

**Проверочная работа
по предмету «ОКРУЖАЮЩИЙ МИР»**

5 класс (по программе начальной школы)

Вариант 1

Инструкция по выполнению работы

На выполнение работы по предмету «Окружающий мир» даётся 45 минут. Работа состоит из двух частей и включает в себя 10 заданий.

Ответы на задания запиши в поле ответа в тексте работы.

При выполнении работы не разрешается пользоваться учебником, рабочими тетрадями и другим справочным материалом.

Советуем выполнять задания в том порядке, в котором они даны. Для экономии времени пропускай задание, которое не удаётся выполнить сразу, и переходи к следующему. Постарайся выполнить как можно больше заданий.


Желаем успеха!

Часть 1

1

Рассмотри рисунок, на котором изображена клумба. Ограждение клумбы изготовлено из металла. Оно отмечено на рисунке стрелкой с соответствующей надписью.

Покажи на рисунке стрелкой любой предмет (любую деталь) из дерева и любой предмет (любую деталь) из камня. Подпиши название соответствующего материала рядом с каждой стрелкой.



2

На интернет-сайтах погоды можно встретить подобные таблицы. Изучи прогноз погоды на трое суток по приведённой ниже таблице.

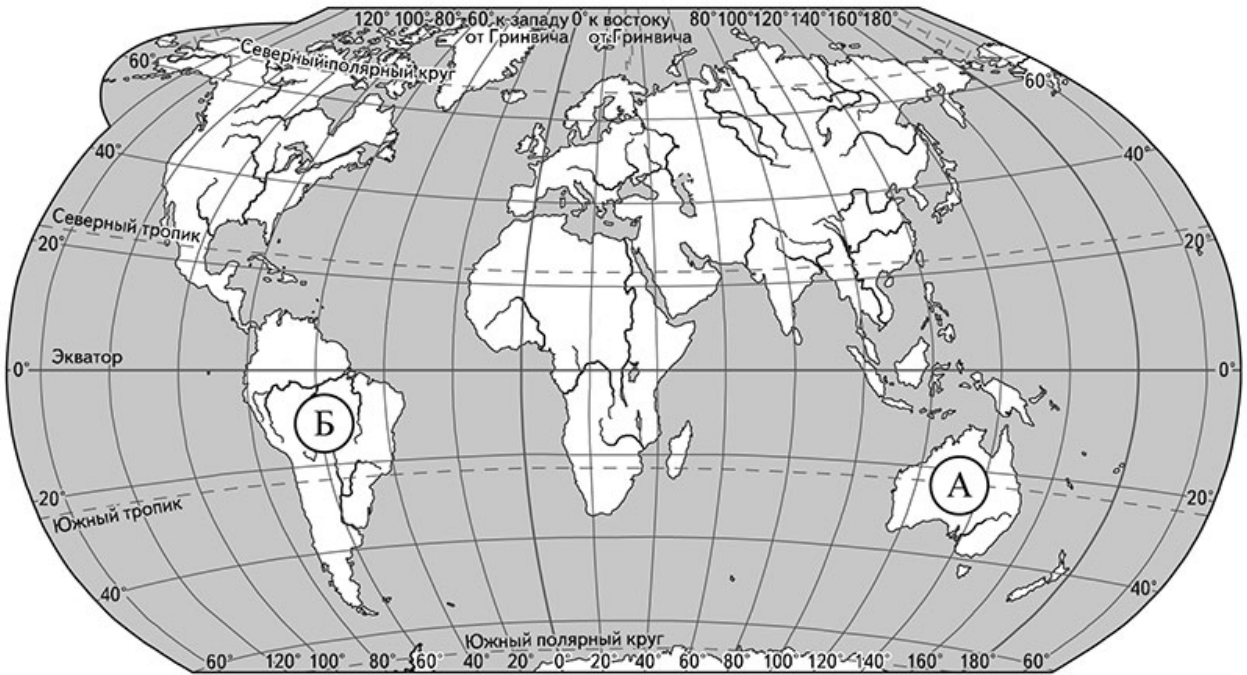
	Четверг, 11 марта				Пятница, 12 марта				Суббота, 13 марта			
	Ночь	Утро	День	Вечер	Ночь	Утро	День	Вечер	Ночь	Утро	День	Вечер
Облачность и атмосферные осадки												
Температура воздуха, °С	2	3	5	3	5	6	9	5	3	3	4	3
Направление ветра												
	В	В	В	В	СЗ	З	СЗ	СЗ	СВ	В	В	СВ
Влажность воздуха, %	77	76	70	74	69	67	60	63	63	60	57	61

Выбери верные утверждения об ожидаемой погоде на эти трое суток и запиши в строку ответа их номера.

- 1) В пятницу днём ожидается небольшой дождь.
- 2) Самым тёплым днём в течение трёх суток будет пятница.
- 3) Влажность воздуха не изменится в течение трёх суток.
- 4) В четверг направление ветра будет меняться в течение суток.

Ответ: _____

3) Рассмотрни карту мира. На ней буквами А и Б отмечены два материка.



3.1. Запиши название каждого материка в отведённое для этого поле.

Название материка (А):

Название материка (Б):



3.2. На следующей странице представлены фотографии *коалы*, *страуса эму*, *муравьёда* и *ягуара*. Запиши название каждого из этих животных рядом с номером фотографии, на которой оно изображено.

1) _____ 2) _____

3) _____ 4) _____



3.3. Какие из этих животных обитают в естественной среде (не в зоопарке) на материке А, а какие – на материке Б? Запиши в таблицу **номера** фотографий с изображением этих животных.

Ответ:

Материк	А	Б
Животные		





1)



2)



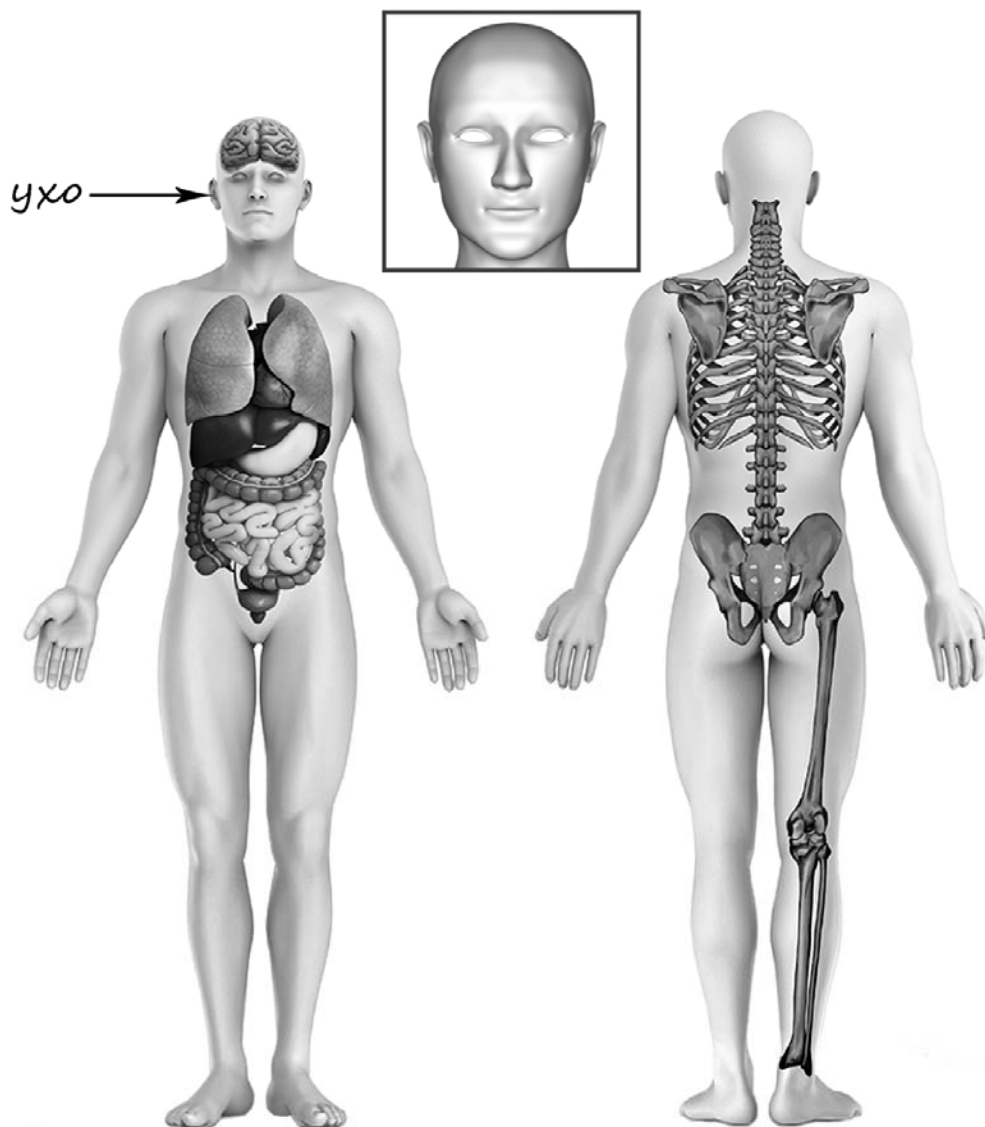
3)



4)

4

Рассмотри изображение человека. Покажи стрелками и подпиши *темя*, *икры* и *кишечник* человека так, как показано на примере.



5

Составь два правила сохранения здоровья и правильного поведения человека из приведённых частей фраз: для этого к каждой позиции первого столбца подбери соответствующую позицию из второго столбца.

Начало фразы**Продолжение фразы**

- | | | |
|--|----|---|
| А) Чтобы быстрее выполнять домашние задания, | 1) | нужно регулярно принимать прохладный душ. |
| Б) Чтобы закалять свой организм, | 2) | нужно содержать своё рабочее место в порядке. |
| | 3) | нужно больше играть с собакой. |

Запиши в таблицу выбранные цифры под соответствующими буквами.

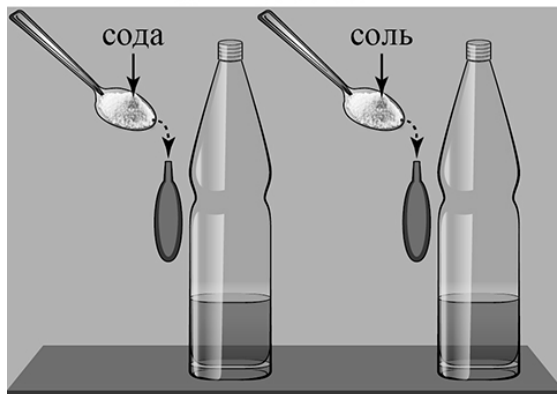
Ответ:

Начало фразы	А	Б
Продолжение фразы		

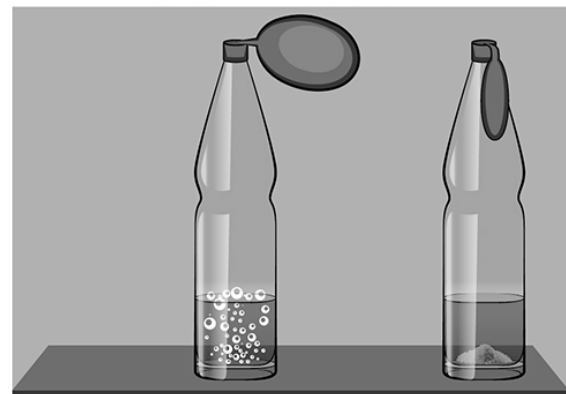
6

Вадим проводил опыты по изучению взаимодействия различных веществ. Для одного из опытов он подготовил две одинаковые прозрачные бутылки и два воздушных шарика, развёл в стакане с водой немного лимонной кислоты и вылил по полстакана полученного раствора в каждую бутылку. Затем Вадим с помощью воронки насыпал в один воздушный шарик столовую ложку соли, а в другой шарик – столько же пищевой соды. После этого он плотно надел шарики на горлышки каждой из бутылок с раствором и поднял их так, чтобы соль и сода высыпались из шариков в бутылки. В бутылке, на которую Вадим надел шарик с пищевой содой, появились пузыри, и шарик на бутылке начал надуваться, а в бутылке, в которую высыпалась соль, никакой заметной реакции не произошло.

Начало опыта



Окончание опыта



6.1. Сравни условия в описанном опыте. Подчеркни в каждой строке одно из выделенных слов.

Исходный состав раствора в бутылках:

одинаковый / различный

Вещества, добавленные в бутылки с раствором:

одинаковые / различные

Количество веществ, добавленных в бутылки с раствором:

одинаковое / различное

6.2. По результатам опыта сделай вывод, почему в бутылке с содой появились пузыри, и шарик на бутылке стал надуваться?

Ответ: _____

6.3. Если бы Вадим захотел выяснить, влияет ли количество соды на взаимодействие её с лимонной кислотой, с помощью какого опыта он смог бы это сделать? Опиши этот опыт.

Ответ: _____

Часть 2

При выполнении заданий 7–10 последовательно отвечай на каждый из представленных вопросов. Ответы записывай чётко и разборчиво, соблюдая нормы речи.

7

Рассмотри знаки, изображённые на рисунках, и ответь на вопросы.



7.1. Какой из этих знаков можно встретить на городской улице?

Ответ.

Какое правило отражает этот знак?

Ответ: _____

7.2. Какие правила отражают два других знака? Запиши ответы в таблицу.

ЗНАК	ПРАВИЛО
<input type="checkbox"/>	
<input type="checkbox"/>	

8

На фотографиях изображены люди разных профессий за работой. Выбери ОДНУ из фотографий и запиши букву, под которой она приведена.

Представитель какой профессии изображён на фотографии? Какую работу выполняют люди этой профессии? Чем работа людей этой профессии полезна обществу?

А)



Б)



В)



Выбранная фотография:

Ответ: _____

9

23 февраля в России отмечается День защитника Отечества. Это государственный праздник, который отмечают все граждане России, и прежде всего военные, чья работа – это защита нашей Родины.



Обведи эту дату в календаре.

2020

Январь							Февраль							Март							Апрель						
ПН	ВТ	СР	ЧТ	ПТ	СБ	ВС	ПН	ВТ	СР	ЧТ	ПТ	СБ	ВС	ПН	ВТ	СР	ЧТ	ПТ	СБ	ВС	ПН	ВТ	СР	ЧТ	ПТ	СБ	ВС
		1	2	3	4	5						1	2							1			1	2	3	4	5
6	7	8	9	10	11	12	3	4	5	6	7	8	9	2	3	4	5	6	7	8	6	7	8	9	10	11	12
13	14	15	16	17	18	19	10	11	12	13	14	15	16	9	10	11	12	13	14	15	13	14	15	16	17	18	19
20	21	22	23	24	25	26	17	18	19	20	21	22	23	16	17	18	19	20	21	22	20	21	22	23	24	25	26
27	28	29	30	31			24	25	26	27	28	29	23	24	25	26	27	28	29	27	28	29	30				
														30	31												

Май							Июнь							Июль							Август						
ПН	ВТ	СР	ЧТ	ПТ	СБ	ВС	ПН	ВТ	СР	ЧТ	ПТ	СБ	ВС	ПН	ВТ	СР	ЧТ	ПТ	СБ	ВС	ПН	ВТ	СР	ЧТ	ПТ	СБ	ВС
				1	2	3	1	2	3	4	5	6	7			1	2	3	4	5						1	2
4	5	6	7	8	9	10	8	9	10	11	12	13	14	6	7	8	9	10	11	12	3	4	5	6	7	8	9
11	12	13	14	15	16	17	15	16	17	18	19	20	21	13	14	15	16	17	18	19	10	11	12	13	14	15	16
18	19	20	21	22	23	24	22	23	24	25	26	27	28	20	21	22	23	24	25	26	17	18	19	20	21	22	23
25	26	27	28	29	30	31	29	30						27	28	29	30	31			24	25	26	27	28	29	30
																					31						

Сентябрь							Октябрь							Ноябрь							Декабрь								
ПН	ВТ	СР	ЧТ	ПТ	СБ	ВС	ПН	ВТ	СР	ЧТ	ПТ	СБ	ВС	ПН	ВТ	СР	ЧТ	ПТ	СБ	ВС	ПН	ВТ	СР	ЧТ	ПТ	СБ	ВС		
		1	2	3	4	5	6				1	2	3	4							1			1	2	3	4	5	6
7	8	9	10	11	12	13	5	6	7	8	9	10	11	2	3	4	5	6	7	8	7	8	9	10	11	12	13		
14	15	16	17	18	19	20	12	13	14	15	16	17	18	9	10	11	12	13	14	15	14	15	16	17	18	19	20		
21	22	23	24	25	26	27	19	20	21	22	23	24	25	16	17	18	19	20	21	22	21	22	23	24	25	26	27		
28	29	30					26	27	28	29	30	31		23	24	25	26	27	28	29	28	29	30	31					

Запиши, на какой день недели приходится эта дата в 2020 году.



Ответ: _____

Российская армия одна из самых сильных в мире. Как ты думаешь, зачем государству нужна армия? (Напиши ответ объёмом до пяти предложений.)



Ответ: _____

10

10.1. Запиши название региона: республики, или области, или края, или автономного округа, в котором ты живёшь.

Ответ: _____

Как называется главный город твоего региона?

Ответ: _____

10.2. Производством каких товаров (продуктов) известен твой регион?

Ответ: _____

Какие животные (звери и птицы) встречаются в природе твоего региона (укажи не менее трёх животных)? Опиши одного из этих животных. Чем питается этот зверь или эта птица?

Ответ: _____
