

Система оценивания проверочной работы

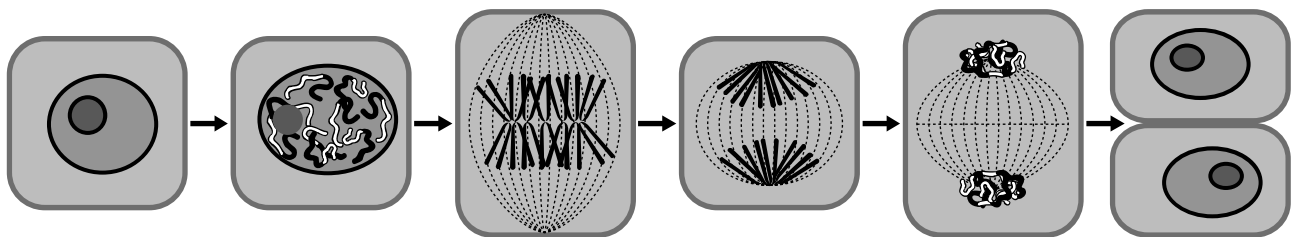
Правильный ответ на каждое из заданий 1.1, 1.2, 1.3, 2.1, 3.1, 3.2, 3.3, 3.4, 5.3, 6, 8.1 оценивается 1 баллом.

Полный правильный ответ на задания 4 и 9 оценивается 2 баллами. Если в ответе допущена одна ошибка (в том числе написана лишняя цифра или не написана одна необходимая цифра), выставляется 1 балл; если допущено две или более ошибки – 0 баллов.

Номер задания	Правильный ответ
4	352
6	1
9	442

1

На представленном ниже рисунке ученик зафиксировал в виде схемы один из процессов жизнедеятельности растений. Рассмотрите схему и ответьте на вопросы.



1.1. Как называют данный процесс?

Ответ. _____

1.2. Знание в области какой ботанической науки позволит ученику изучить данный процесс?

Ответ. _____

1.3. Для клеток какой ткани характерен этот процесс?

Ответ. _____

1.1	деление клетки
1.2	физиология
1.3	образовательная ткань

2

В приведённой ниже таблице между позициями первого и второго столбцов имеется взаимосвязь.

Целое	Часть
Образовательная ткань	Камбий
...	Кожица

2.1. Какое понятие следует вписать на место пропуска в этой таблице?

- 1) механическая ткань
- 2) проводящая ткань
- 3) покровная ткань
- 4) запасаящая ткань

Ответ:

2.2. Какую функцию выполняют устьица у растений?

Ответ: _____

2.1

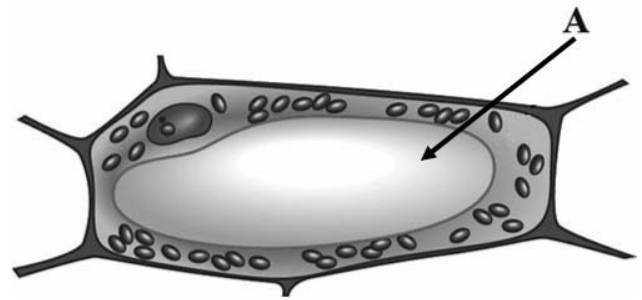
3

2.2

Содержание верного ответа и указания к оцениванию (допускаются иные формулировки ответа, не искажающие его смысла)	Баллы
Правильный ответ должен содержать <u>указание функции</u> , например: газообмен, ИЛИ испарение, ИЛИ защита от перегрева растения	
Правильно указана функция	1
Ответ неправильный	0
<i>Максимальный балл</i>	<i>1</i>

3

3.1. Рассмотрите рисунок растительной клетки (рис. 1). Какая структура клетки обозначена на рисунке буквой А?



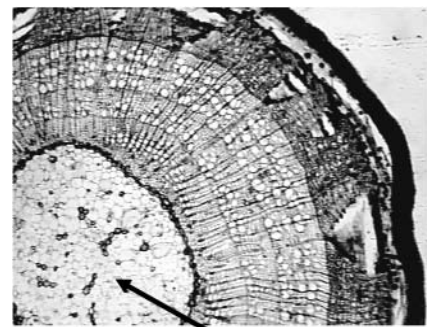
Ответ: _____

3.2. Каково значение этой структуры в жизнедеятельности клетки?

Ответ: _____

Рис. 1

3.3. Олеся рассмотрела срез молодого древесного стебля под микроскопом и сделала микрофотографию (рис. 2). Что она обозначила на фотографии цифрой 1?



Ответ: _____

3.4. К какому типу ткани относятся обозначенные на рис. 2 цифрой 1 клетки?

Ответ: _____

Рис. 2

3.1	вакуоль / вакуоль с клеточным соком
3.3	сердцевина
3.4	запасаящая / основная запасаящая / основная паренхима

3.2

Содержание верного ответа и указания к оцениванию (допускаются иные формулировки ответа, не искажающие его смысла)	Баллы
Правильный ответ должен содержать указание функции, например: накопление питательных веществ и конечных продуктов обмена веществ ИЛИ обеспечение внутреннего давления на клеточную оболочку	
Правильно указана функция	1
Ответ неправильный	0
<i>Максимальный балл</i>	<i>1</i>

5

Рассмотрите изображение побега и выполните задания.



5.1. Покажите стрелками и подпишите на рисунке *лист*, *боковую почку*, *междоузлие*.

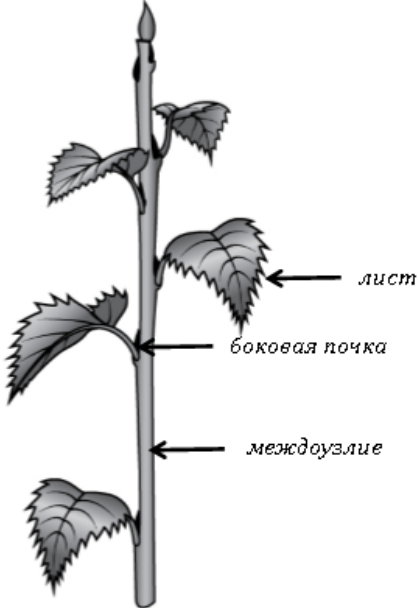
5.2. Какое листорасположение называют супротивным?

Ответ: _____

5.3. Как называют угол между листом и вышележащим междоузлием?

Ответ: _____

5.1

Содержание верного ответа и указания по оцениванию	Баллы
	
Верно подписаны три части побега	2
Верно подписаны только две части побега	1
Верно подписана только одна любая часть побега. ИЛИ Ответ неправильный	0
<i>Максимальный балл</i>	2

5.2

Содержание верного ответа и указания к оцениванию (допускаются иные формулировки ответа, не искажающие его смысла)	Баллы
Правильный ответ должен содержать <u>описание</u> : на каждом узле сидят друг против друга два листа	
Правильно дано описание	1
Ответ неправильный	0
<i>Максимальный балл</i>	1

5.3	пазуха листа
-----	--------------

7

Используя приведённую ниже таблицу, ответьте на вопросы.

Содержание минеральных веществ в плодах растений, мг/100 г

Растение	Калий	Кальций	Магний	Фосфор	Железо
Арбуз	64	14	224	7	1,0
Огурец	140	23	14	42	0,9
Тыква	204	25	14	25	0,4
Дыня	118	16	13	12	1,0

Какое растение из перечисленных в таблице содержит наибольшее количество фосфора?

Ответ: _____

Какое вещество из перечисленных в таблице содержится в арбузе и дыне в одинаковом количестве?

Ответ: _____

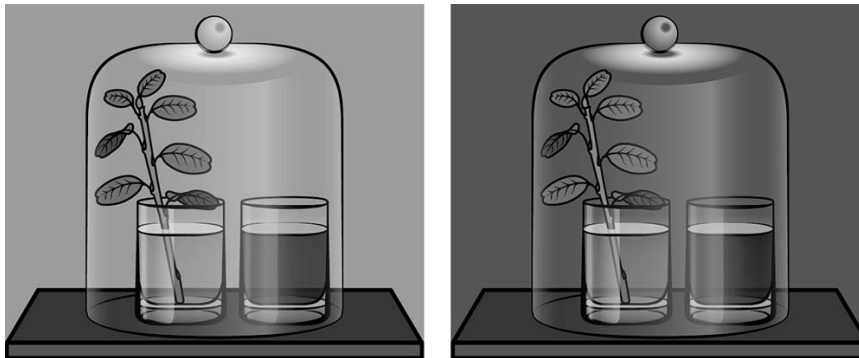
Какое растение из перечисленных в таблице следует включить в свой рацион человеку, у которого недостаток магния в организме?

Ответ: _____

Содержание верного ответа и указания по оцениванию	Баллы
Правильный ответ должен содержать <u>ответы на три вопроса</u> : 1) огурец; 2) железо; 3) арбуз	
Правильно даны ответы на три вопроса	2
Правильно даны ответы на любые два вопроса	1
Правильно дан ответ только на один любой вопрос. ИЛИ Ответ неправильный	0
<i>Максимальный балл</i>	2

8

Известно, что растения дышат. Валерий побег комнатного растения поставил в стакан с водой. Рядом он поставил другой стакан с водным раствором йода. Затем закрыл растение и стакан с раствором йода стеклянным колпаком и поместил в тёмный шкаф на сутки. На следующий день Валерий обратил внимание на то, что цвет раствора не изменился.



8.1. Какую задачу ставил Валерий, помещая растение и стакан с водным раствором йода в тёмный шкаф?

Ответ: _____

8.2. Какой вывод можно сделать на основании полученного результата?

Ответ: _____

8.3. Можно ли утверждать, что если во второй стакан налить раствор поваренной соли, то он помутнеет? Обоснуйте свой ответ.

Ответ: _____

8.1	влияет ли углекислый газ, выдыхаемый растением, на раствор йода
-----	---

8.2

Содержание верного ответа и указания к оцениванию (допускаются иные формулировки ответа, не искажающие его смысла)	Баллы
Правильный ответ должен содержать <u>вывод</u> , например: водный раствор йода не изменяется под действием углекислого газа	
Сделан правильный вывод	1
Ответ неправильный	0
<i>Максимальный балл</i>	<i>1</i>

8.3









Содержание верного ответа и указания по оцениванию (допускаются иные формулировки ответа, не искажающие его смысла)	Баллы
Правильный ответ должен содержать следующие <u>элементы</u> : 1) <u>ответ на вопрос</u> : нет; 2) <u>обоснование</u> : мы не знаем свойств поваренной соли. Обоснование может быть приведено в иных, близких по смыслу формулировках	
Правильно дан ответ и дано обоснование	2
Правильно дан ответ	1
Ответ не указан / указан неправильно	0
<i>Максимальный балл</i>	<i>2</i>

10

Растения по-разному относятся к свету, теплу и влаге, и это учитывается цветоводами при разведении различных растений.





10.1. Опишите особенности растений аспидистры и асплениума, которые необходимо учитывать при их разведении в домашних условиях, используя для этого таблицу условных обозначений.

Условные обозначения:





1) Выносливость			3) Требуемый режим полива				
	выносливое	капризное		сухая земля	увлажнённая земля	постоянно влажная земля	вода в поддоне
2) Требуемая влажность воздуха			4) Отношение к свету				
	не требует опрыскивания	регулярное опрыскивание		прямые лучи	рассеянный свет	полутень	тень

Характеристики:



1)	2)	3)	4)
			



1)	2)	3)	4)
			

Аспидистра:

1) _____

2) _____

3) _____

4) _____

Асплениум:

1) _____

2) _____

3) _____

4) _____

10.2. По каким позициям из приведённых в описании эти растения имеют одинаковые характеристики?

Ответ. _____

10.1

Содержание верного ответа и указания по оцениванию	Баллы
<p>Правильный ответ должен содержать следующие <u>условия выращивания растений</u>:</p> <p><u>аспидистра</u>:</p> <p>1) выносливое; 2) требует регулярного опрыскивания; 3) увлажнённая земля; 4) полутень;</p> <p><u>асплениум</u>:</p> <p>1) выносливое; 2) требует регулярного опрыскивания; 3) постоянно влажная земля; 4) рассеянный свет.</p> <p>Условия могут быть приведены в более развёрнутых формулировках</p>	
Правильно указаны по четыре условия для выращивания каждого из растений	2
Правильно указаны два-три условия для выращивания одного растения и два–четыре условия для выращивания другого растения. ИЛИ Правильно указаны четыре условия для выращивания только одного из растений	1
Все комбинации элементов, не соответствующие указаниям по выставлению 2 и 1 балла. ИЛИ Ответ неправильный	0
<i>Максимальный балл</i>	2

10.2

Содержание верного ответа и указания по оцениванию	Баллы
<p>Правильный ответ должен содержать указание следующих <u>позиций, по которым растения имеют одинаковые характеристики</u>:</p> <p>1) аспидистра и асплениум – выносливые растения; 2) для выращивания требуют регулярного опрыскивания</p>	
Правильно указаны две позиции	2
Правильно указана только одна позиция	1
Ответ неправильный	0
<i>Максимальный балл</i>	2

Система оценивания выполнения всей работы

Максимальный балл за выполнение работы – **28**.

Рекомендации по переводу первичных баллов в отметки по пятибалльной шкале

Отметка по пятибалльной шкале	«2»	«3»	«4»	«5»
Первичные баллы	0–11	12–17	18–23	24–28